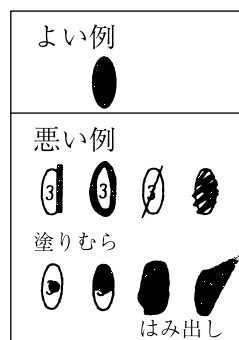


2012年

# 社 会

## マークのしかた

- マークは楕円内をむらなく塗りつぶすこと。
- HBの鉛筆または同じ濃さのシャープペンシルで塗りつぶすこと。
- 一度塗りつぶしたものを直すときは、あとが残らないように、プラスチック製消しゴムできれいに消してから直すこと。



## 受験番号のマークのしかた

- 受験番号記入欄に、自分の受験番号を記入し、下の該当する数字をマークしなさい。
- 右図は1503番の人の例です。

受験番号			
1	5	0	3
●	①	①	①
②	②	②	②
③	③	③	●
④	④	④	④
⑤	●	⑤	⑤
⑥	⑥	⑥	⑥
⑦	⑦	⑦	⑦
⑧	⑧	⑧	⑧
⑨	⑨	⑨	⑨
⑩	⑩	●	⑩

## 解答のしかた

- 記述で解答するように指示してある問題以外はマークで解答しなさい。
- 右図の例は 1 の (1) に ③, (2) に ⑤ と答えるときのものです。この例では (4) は記述で解答します。

問題番号	解 答 欄
1	(1) ① ② ● ④ ⑤ ⑥ ⑦ ⑧ ⑨ ⑩
	(2) ① ② ③ ④ ● ⑥ ⑦ ⑧ ⑨ ⑩
	(3) ① ② ③ ④ ⑤ ⑥ ⑦ ⑧ ⑨ ⑩
	(4)
	(5) ① ② ③ ④ ⑤ ⑥ ⑦ ⑧ ⑨ ⑩

1 次の地図を見て、あとの(1)～(5)に答えなさい。(12点)



(1) 次の文は、地図中①～⑤のどの国について述べたものであるか、適切なものを一つ選びなさい。

この国は、まわりの国がヨーロッパ諸国の植民地にされていく中、独立を守りました。そのため、伝統的な農業が受け継がれ、特にチャオプラヤ川の三角州などで稲作がさかんです。現在、米の輸出量は、世界第1位となっています。国民の多くは、仏教を信仰しており、男性は、一生のうち一度は仏門に入り修行をします。

(2) 地図中のA国について述べた文として適切でないものを、次の①～⑤の中から一つ選びなさい。

- ① ヨーロッパ諸国との関係が深いですが、EU（ヨーロッパ連合）には加盟していない。
- ② かつて、ソビエト連邦で中心的な役割を果たしていたが、ソビエト連邦崩壊後の現在は、社会主義体制を放棄した。
- ③ この地図に示されている地域は、シベリア鉄道やバイカル・アムール鉄道を利用して資源などの開発が進められている。
- ④ この地図に示されている地域の大部分は、冷帯（亜寒帯）気候で、タイガとよばれる針葉樹の森林が広がっている。
- ⑤ 日本との間には、竹島をめぐる領土問題があり、現在も解決していない。

(3) 地図中のB国について、次のア・イに答えなさい。

ア 日本は、歴史的にB国との関係が強く、さまざまなことを学び、文物が伝えられてきた。次の写真の金印を日本に与えた中国の王朝として正しいものを、下の①～⑤の中から一つ選びなさい。



- ① 秦    ② 漢    ③ 隋    ④ 唐    ⑤ 宋

イ 次のあ・いの文は、地図中の㉓～㉖のいずれかの地域について述べたものである。文と地域の組み合わせとして適切なものを、下の①～④の中から一つ選びなさい。

あ. 広大な平原が広がり、冬の寒さが厳しい。石炭や鉄鉱石などの資源が早くから開発された。

い. 降水量が多く、米の栽培がさかんである。2009年に、世界最大級のダムが完成した。

- ① あ-㉓, い-㉕      ② あ-㉓, い-㉖      ③ あ-㉔, い-㉕  
④ あ-㉔, い-㉖

(4) 地図中のXは、日本に石油などの資源を輸送するうえで、重要な海峡である。この海峡を、次の①～⑤から一つ選びなさい。

- ① ドーバー海峡      ② ベーリング海峡      ③ マラッカ海峡  
 ④ ジブラルタル海峡      ⑤ マゼラン海峡

(5) 次の表は、ある農作物の生産量の上位5か国を示している。この農作物の写真として適切なものを、下の①～⑤の中から一つ選びなさい。(資料は2009年)

	国名	生産量(千t)	割合(%)
1位	タイ	3139	30.1
2位	インドネシア	2922	27.6
3位	マレーシア	1072	10.1
4位	インド	819	7.7
5位	ベトナム	660	6.2

①



②



③



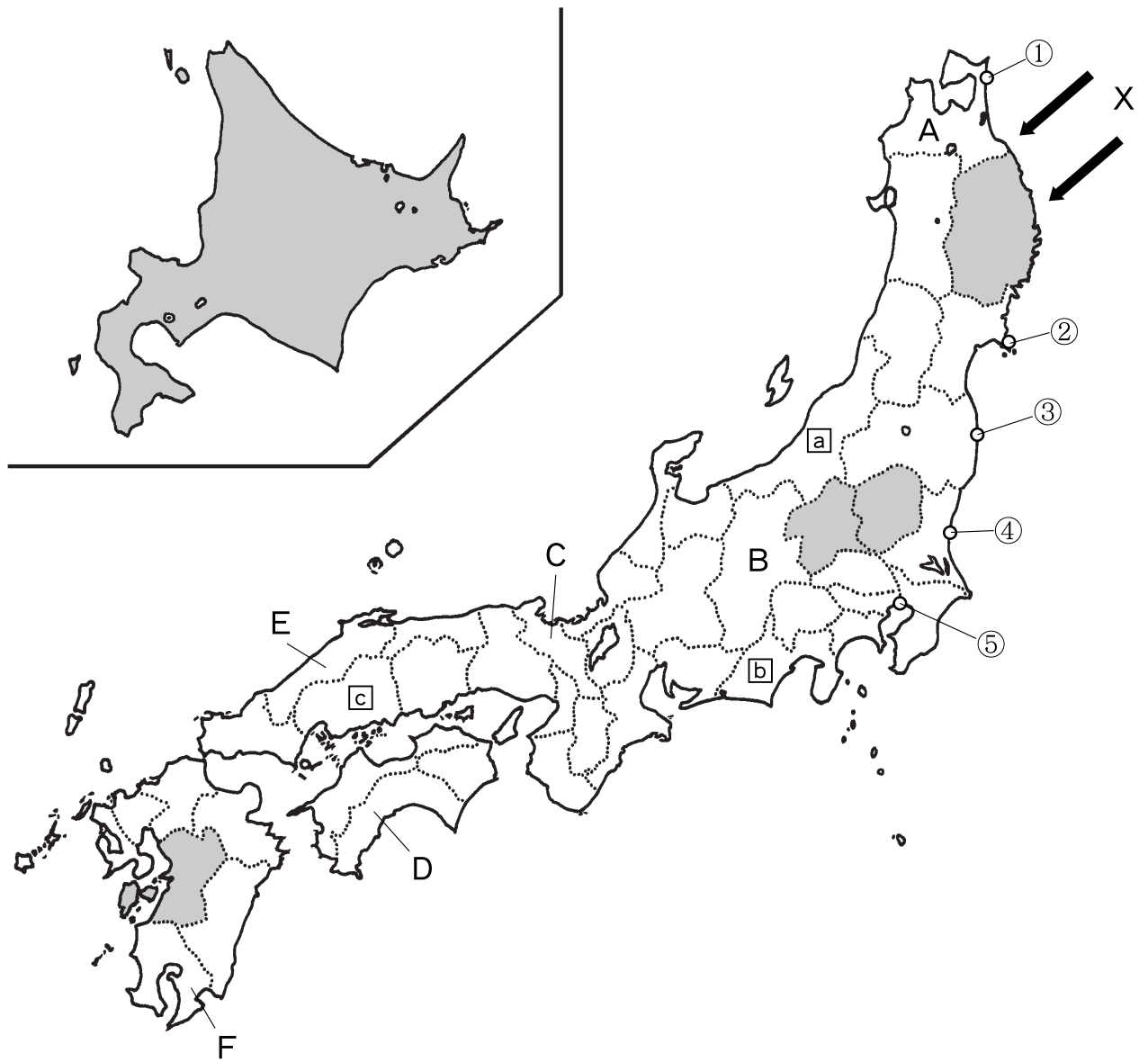
④




⑤



2 次の地図を見て、あとの(1)～(6)に答えなさい。(13点)



(1) 地図中の  は、ある統計について上位5つの道県を示したものである。適切なものを、次の①～⑤の中から一つ選びなさい。(①③は2009年、②は2010年、④⑤は2008年の統計)

- ① 米の収穫量                      ② 乳用牛の飼育頭数
- ③ スキー場の施設数              ④ 地方公共団体が受けつけた公害の苦情件数
- ⑤ インターネットを通じて情報・通信サービスを提供する事業所数

(2) 2011年3月11日に発生した東北地方太平洋沖地震は、大きな被害をもたらした。この地震により放射能漏れ事故を起こした東京電力の原子力発電所は、地図中①～⑤のどこに位置するか一つ選びなさい。

(3) 次のア～ウは、地図中のa～cの県のいずれかが、日本一の生産を誇る品目を示している。県と品目の組み合わせとして適切なものを、下の①～⑥の中から一つ選びなさい。

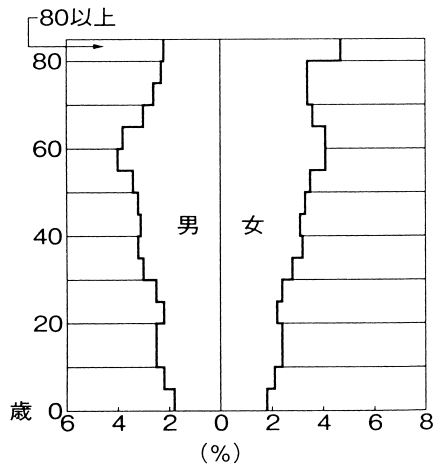
ア	イ	ウ
レモン	天然ガス	茶
養殖かき	舞茸 <small>まいたけ</small>	紙・パルプ
印刷機械	金属洋食器	ピアノ
ソース	米菓	まぐろ缶詰

- ① a-ア, b-イ, c-ウ              ② a-ア, b-ウ, c-イ
- ③ a-イ, b-ア, c-ウ              ④ a-イ, b-ウ, c-ア
- ⑤ a-ウ, b-ア, c-イ              ⑥ a-ウ, b-イ, c-ア

(4) 地図中の矢印Xは、ある風を示している。この風について述べた文として適切なものを、次の①～④の中から一つ選びなさい。

- ① 高温で乾燥した風で、フェーン現象をもたらす。
- ② 偏西風とよばれ、一年を通してほぼ同じ方向から吹く。
- ③ やませとよばれる冷たい風で、冷害をもたらす。
- ④ 台風とよばれ、強風による被害をもたらす。

(5) 次の図は、地図中Aの青森県の人口を、男女別、5歳きざみの年齢別に、その割合をあらわしたものである。この図から読みとることができる内容として適切なものを、下の①～⑤の中から一つ選びなさい。(資料は2009年)



- ① 青森県の人口ピラミッドは、富士山型であるといえる。
- ② 青森県の人口は、男性の方が女性よりも多い。
- ③ 青森県では、幼年人口（15歳未満の人口）が、老年人口（65歳以上の人口）よりも多い。
- ④ 5歳きざみの人口で見ると、青森県で人口が最も多いのは、55歳以上60歳未満の年齢層である。
- ⑤ 5歳きざみの人口で見ると、中学生が含まれる10歳以上15歳未満の人口は、男女合わせても、青森県の総人口の4%より少ない。

(6) 日本国内には、その人口が100万人を超える都市が12都市ある(2010年)。地図中B～Fのうち、人口が100万人を超える都市が存在する府県はどこか、次の①～⑤の中から一つ選びなさい。

- ① B    ② C    ③ D    ④ E    ⑤ F



3 次の記事を読んで、あとの(1)～(5)に答えなさい。(10点)

### 第5回世界のウチナーンチュ大会が開幕

第5回世界のウチナーンチュ(沖縄の方言で「沖縄の人」の意味)大会が、今日13日、いよいよ開幕します。日本有数の移民県である⑥沖縄県からは、戦前戦後を通して、多くの県民が海外へと移り住みました。1世紀にもおよぶ移民の歴史の中、多くの沖縄県出身者とその子孫たちは、数々の困難を乗り越えてきました。現在、世界各地には、約40万人のウチナーンチュが在住しており、彼らが5年に1度集まるのが、「世界のウチナーンチュ大会」です。今大会には、23カ国・2地域から、過去最多の5194人が集まいます。

前夜祭となった12日には、那覇市の国際通りでパレードがあり、仲井真弘多沖縄県知事は、「大勢の方が世界中から集まり、⑦140万県民を代表して歓迎、感謝します。みなさんは、沖縄の宝であり誇りです」とあいさつしました。ニューヨーク沖縄県人会長をつとめる、てい子与那覇トウシーさんが、「みんな気合十分だよ、パレードを楽しもう、イーヤーサー」と声を上げ、パレードがスタートしました。

パレードには、ブラジル・⑧アルゼンチン・ペルー・⑨アメリカ合衆国などの南北アメリカや、⑩ドイツ・フランス・スペインなどのヨーロッパ、フィリピン・タイ・インドネシアなどのアジアから、約70組、4500人が参加しました。それぞれの国や地域の民族衣装に身を包んで歌や踊りを交えて行進し、沿道を埋めた8万人以上の人々は、おたがいに握手を交わしたり抱き合ったりして、大会ムードを盛り上げました。

(1) 文中の下線部⑥について、沖縄県には、日本にあるアメリカ軍施設の約40%(面積では75%)が集中しており、訪れると、平和について考えさせられる。日本ならびに世界の平和について述べた文として適切でないものを、次の①～⑤の中から一つ選びなさい。

- ① 非核三原則は、原爆を投下されたことにより多くの犠牲者を出した、沖縄・広島<sup>ぎんぎ</sup>の市民運動でかけられた。
- ② 日本国憲法第9条には、戦争を放棄し、戦力を持たず、交戦権を認めないことが定められている。
- ③ 日本は、防衛のために、アメリカ合衆国と日米安全保障条約を結んでいる。
- ④ PKO協力法(国際連合平和維持活動等に対する協力に関する法律)が成立したことにより、現在、自衛隊の海外派遣が可能となっている。
- ⑤ 国際連合には、世界の平和と安全を維持することを目的として、安全保障理事会が置かれている。

(2) 文中の下線部⑩について、沖縄県の人口は、約138万2000人(2009年)である。次の①～⑤の府県の中から、その人口が沖縄県に最も近いものを一つ選びなさい。

- ① 青森県    ② 神奈川県    ③ 大阪府    ④ 鳥取県    ⑤ 福岡県



(3) 文中の下線部㉓のアルゼンチンについて述べた文として適切なものを、次の①～⑤の中から一つ選びなさい。

- ① 国内には白人が多いが、その多くがポルトガル系であるため、公用語はポルトガル語となっている。
- ② 国が独立する時に、国内に複数の民族が住むことになったことから、内戦が起こり、多くの難民が発生している。
- ③ 温帯気候から乾燥帯気候にかけてプレーリーとよばれる草原がひろがるが、人口はまばらで、農業はほとんど行われていない。
- ④ 隣国のチリと間には、アンデス山脈が連なり、両国の国境となっている。
- ⑤ 首都のブエノスアイレスは、東京から見ると、南東の方角に位置している。

(4) 文中の下線部㉔のアメリカ合衆国について述べた文として適切なものを、次の①～⑤の中から一つ選びなさい。

- ① アメリカ合衆国の通貨であるドルは、その使用が国内での流通に限定され、貿易などの国際的な取り引きにはほとんど使用されていない。
- ② 北緯37度以南の地域は、サンベルトとよばれ、この地域で多く産出する石炭や鉄鉱石を利用して、デトロイトなどで自動車工業が発達した。
- ③ かつてアフリカから強制的に連れてこられた人々の子孫は、現在も国の南部に多く見られ、ヒスパニックとよばれている。
- ④ 日本とアメリカ合衆国との間の貿易は、アメリカ合衆国が大幅な黒字となっており、貿易摩擦とよばれる問題を引き起こしている。
- ⑤ 降水量は、西部よりも東部で多く、トウモロコシや大豆・綿花などの耕地は、国の東部に集中している。

(5) 文中の下線部㉕のドイツについて述べた文として適切なものを、次の①～⑤の中から一つ選びなさい。

- ① 19世紀末に、イタリア・オーストリアと同盟を結んだことで、イギリス・フランスなどとの対立が深まり、第1次世界大戦が起こった。
- ② 古くから干拓事業が行われ、国土の約4分の1は、海面よりも標高が低くなっている。
- ③ かつて、アフリカに多くの植民地を持ち、モロッコやアルジェリアなどでは、ドイツ語が公用語として使用されている。
- ④ ヨーロッパの人々は、ゲルマン民族・ラテン民族・スラブ民族に大きく分けられるが、ドイツ人は、その多くがラテン民族である。
- ⑤ ルール地方には、豊富な石油資源が存在し、ヨーロッパ最大の石油化学コンビナートがつくられている。

4 太郎さんたちは「戦いと人々の生活」というテーマで、調べ学習を進めています。戦乱について年代ごとにできごとを整理し、人物とその生き方についてまとめています。あとの(1)～(6)に答えなさい。(18点)

(1) 鎌倉時代に、社会のむなしさを『方丈記』にまとめた人物を、次の①～⑥の中から一つ選びなさい。

- ① 観阿弥    ② 鴨長明    ③ 森鷗外    ④ 柳宗悦    ⑤ 卑弥呼    ⑥ 源義家

(2) 下の絵は、日本の南北朝時代ごろの、集団をつくって貿易を強要し、<sup>かいぞく</sup>海賊行為をはたらく者たちを描いている。これを何というか、漢字で答えなさい。



(3) 応仁の乱について述べた文として適切なものを、次の①～④の中から一つ選びなさい。

- ① 足利義満が将軍のときに、細川氏と山名氏が将軍のあとつぎ問題をめぐって対立した。  
② 戦乱は鎌倉から全国に広がり、地方の社会に新たな動きが始まった。  
③ 乱の後、下剋上の風潮が広がって、守護大名の地位をうばって実権をにぎる戦国大名が各地に登場した。  
④ この戦乱には、防人という<sup>やと</sup>雇い兵が動員され、多くの寺院や貴族の屋敷が焼かれた。

(4) 次のア～ウは、江戸時代に起きたさまざまな戦いについて述べたものである。これらの文を古い順に正しく並べたものを、下の①～⑥の中から一つ選びなさい。

ア 全国で世直しを期待する一揆が起き、また、「ええじゃないか」の乱舞が流行した。

イ キリスト教徒への迫害に苦しんだ島原や天草の人々が、反乱を起こした。

ウ もと大阪町奉行所の役人であった大塩平八郎が大商人を襲い、米や金を貧しい人に分けようとした。

- ① アーイーウ    ② アーウーイ    ③ イーアーウ    ④ イーウーア    ⑤ ウーアーイ  
⑥ ウーイーア

(5) 太平洋戦争中のようすについて述べた文として適切でないものを、次の①～④の中から一つ選びなさい。

① 男性が戦場に送られると、中学生や高校生が工場や農村で働くようになったが、これを学徒出陣という。

② 空襲が激しくなると、大都市の小学生は親もとをはなれ、集団疎開を行った。

③ 朝鮮や中国の人々が日本に連れてこられて、過酷な労働をしいられた。

④ 兵士だけでなく、女性や子どもなど一般の人々にも、多くの犠牲者が出た。

(6) 太平洋戦争の終結後、あたらしい憲法のもとで、民主主義の教育を基本とし、小中学校を義務教育とする法律ができた。これを何というか、漢字で答えなさい。

5 次の文を読んで、あとの(1)～(6)に答えなさい。(17点)

- A. 武家の住居には、部屋にたたみをしきつめ、床の間をもうける ㉞書院造が広まった。
- B. 一般の人々は、たて穴住居やほったて柱住居に住むようになり、政府(朝廷)からあたえられた ㉟口分田を耕作し生活していた。
- C. 三都とよばれた江戸・大阪・㊱京都などの大都市には、長屋とよばれるせまい部屋を借りて生活する人々が多く住んでいた。
- D. 大陸から ㊲稲作が伝わると、人々は水田の近くに村をつくって住み、たて穴住居の近くには、収穫した稲の穂をたくわえるための高床倉庫をつくった。
- E. 住宅の一部に西洋間を設けたり、ガラス窓を採用したりした ㊳文化住宅が流行した。

(1) 下線部㉞の建築様式がもちいられるようになった時代の建物を、次の①～④の中から一つ選びなさい。



(2) 下線部㉔について、戸籍に登録された6歳以上のすべての人々に口分田をあたえる制度を何というか、漢字で答えなさい。

(3) 下線部㉕について述べた文として適切なものを、次の①～⑤の中から一つ選びなさい。

- ① 794年、新たな都として平城京がつくられた。
- ② 10世紀の中ごろ、平将門が、この地でおこった戦乱に勝利して太政大臣となった。
- ③ 鎌倉幕府は、朝廷を監視するために、六波羅探題を置いた。
- ④ 江戸時代には「天下の台所」とよばれ、諸藩の蔵屋敷が置かれた。
- ⑤ 1860年、この地で、大老の井伊直弼が暗殺された。

(4) 下線部㉖について述べた文として適切なものを、次の①～④の中から一つ選びなさい。

- ① 鎌倉時代になると、全国の田畑を調べ、土地の統一的基準として石高が定められた。
- ② 室町時代になると、肥料に牛馬のふんや堆肥たいひを使うようになり、収穫が増えた。
- ③ 江戸時代になると、脱穀するための新しい農具として、備中くわが使われるようになった。
- ④ 明治時代になると、農地改革が行われ、地主制が廃止された。

(5) 下線部㉗は大正時代の住宅である。大正時代の人々の生活について述べた文として**適切でないもの**を、次の①～④の中から一つ選びなさい。

- ① 洋風料理が広まり、カレーライス・トンカツ・コロッケなどが食べられた。
- ② 都市では電気が普及しはじめ、電灯のあかりのもとで、芥川龍之介などの作品が読まれた。
- ③ バスガールやタイピストなど、働く女性が増加した。
- ④ 人々は、テレビ放送を見て、いろいろな情報を知ることができた。

(6) A～Eの文を、解答欄にあわせて、時代の古い順に正しくならべなさい。



**6** 下の文章を読んで、あとの(1)～(6)に答えなさい。(16点)

2011年3月11日に発生した東北地方太平洋沖地震は、東北地方や関東地方に大きな被害をもたらしました。その影響は、日本国内だけでなく、海外にも及んでいます。

水道や⑥電気などのライフラインが断たれ、わたしたちの生活に大きな影響を与えました。①農業や漁業といった( P )次産業では特に被害が大きく、復興までに多くの課題を克服しなければなりません。②地方公共団体による対策には限界があり、③政府の長期的な支援が必要です。また、④ボランティアによる被災者支援が多く見られていますが、わたしたちにできることから始める姿勢が大切です。

(1) 文中の( P )にあてはまる適切な語句を答えなさい。

(2) 下線部⑤に関連して、日本の電力事情についての説明として**適切でないもの**を、次の①～④の中から一つ選びなさい。

- ① 日本でまかなわれている電力のうち、最も大きい割合を占めているのは火力発電である。
- ② 日本は山がちで水資源にめぐまれているので、山地にダムを建設し、その水を利用した水力発電を活用している。
- ③ 日本には、60基を超える原子力発電施設があり、これは世界の中で最も多い。
- ④ 石油などの化石燃料によらない発電方法として、風力や太陽光、地熱などが注目されている。

(3) 下線部⑥に関連する文として適切なものを、次の①～④の中から一つ選びなさい。

- ① 世界で主食とされている農作物のうち、三大穀物とよばれるのは、米・ジャガイモ・とうもろこしである。
- ② 近年、世界の三大漁場などで、最新技術を使って漁が行われることにより、漁業資源がなくなることが心配されている。
- ③ 日本の農業は、大規模で企業的な農業であり、単位面積あたりの収穫量が少ないことが特色である。
- ④ 日本の漁業は、「育てる漁業から捕る漁業へ」と変わり、養殖漁業や栽培漁業に従事する人が減り、遠洋漁業や沖合漁業に従事する人が増えている。

(4) 下線部⑦にあてはまらないものを、次の①～④の中から一つ選びなさい。

- ① 都道府県    ② 郡    ③ 市町村    ④ 特別区

(5) 下線部㉔に関連して、財政について述べた文として適切なものを、次の①～④の中から一つ選びなさい。

- ① 財政活動を行うための予算の成立には、国会の承認が必要である。
- ② 歳入と歳出の計画は、1月から12月までを1年間として立てられる。
- ③ 景気を調整する手段としての財政活動では、好景気のときには、減税してデフレーションを発生させる。
- ④ 政府は、租税収入の不足を補<sup>おぎな</sup>うために公債を発行することはない。

(6) 下線部㉕について述べた文として適切でないものを、次の①～④の中から一つ選びなさい。

- ① ボランティア活動に関する情報は、ハローワークやタウンミーティングなどで得ることができる。
- ② ボランティア活動は、人と人との新たな交流をもたらしてくれるだけでなく、個人に精神面での充実をもたらす効果がある。
- ③ ボランティア活動は、福祉にとどまらず、教育や環境などさまざまな分野で行われている。
- ④ ボランティア活動とは、自分の意思にもとづいて、その技能や時間をすすんで提供し、社会に貢献する活動のことである。



- 7 下の表は、FIFA女子ワールドカップドイツ2011の出場国を示している。これを見て、あとの(1)～(6)に答えなさい。ただし、グループBのイングランドは、イギリスとして考えるものとする。(14点)

グループA	グループB	グループC	グループD
ドイツ	イングランド (イギリス)	スウェーデン	ブラジル
フランス	日本	アメリカ合衆国	オーストラリア
ナイジェリア	メキシコ	朝鮮民主主義人民共和国	ノルウェー
カナダ	ニュージーランド	コロンビア	赤道ギニア

(財団法人日本サッカー協会HPを参照して作成)

- (1) グループAについて、ドイツやフランス・カナダのような先進工業国と、ナイジェリアのような発展途上国との間の経済格差から生じる諸問題を何とというか、漢字で答えなさい。
- (2) グループBについて述べた文として適切なものを、次の①～④の中から一つ選びなさい。
- ① グループBの国は、すべて北半球にある。
  - ② グループBの国は、四方をすべて海に囲まれた海洋国(島国)である。
  - ③ グループBには、本初子午線が通っている国がある。
  - ④ グループBには、日付変更線が通っている国がある。
- (3) グループCの朝鮮民主主義人民共和国に関連する説明として適切でないものを、次の①～④の中から一つ選びなさい。
- ① 朝鮮半島の北部に位置する、社会主義国家である。
  - ② 大韓民国との間で戦争が起こったが、現在は休戦状態である。
  - ③ 日本との国交は、いまだ正常化していない。
  - ④ 国際連合加盟の国民投票が行われたが、反対が賛成を上回り、いまだ加盟していない。

(4) グループDの国々の気候について述べた文として適切なものを、次の①～④の中から一つ選びなさい。

- ① グループDのすべての国は、赤道付近に位置するため、熱帯の気候がみられる。
- ② グループDのすべての国は、季節風（モンスーン）の影響を受け、冬に大雪になることが多い。
- ③ グループDに含まれる国の一つは、日本と経度が近いこと、時差があまりない。
- ④ グループDに含まれる国の一つは、東京と同じ緯度上に位置するため、気温差があまりない。

(5) グループA～Dのうち、3つのグループには、NAFTA（北米自由貿易協定）を結んでいる国がそれぞれ一つずつ含まれている。NAFTAを結んでいる国が含まれていないグループを、次の①～④の中から一つ選びなさい。

- ① グループA    ② グループB    ③ グループC    ④ グループD

(6) 次の①～④の文は、グループA～Dに含まれる国についてそれぞれ説明している。その説明として適切でないもの一つを選びなさい。

- ① フランスは、小麦などの穀物栽培がさかんで、穀物自給率は日本より高い。
- ② ニュージーランドでは、20世紀初頭から1970年代まで白豪主義がとられ、有色人種の移民が制限されてきた。
- ③ スウェーデンのストックホルムでは、国連人間環境会議が開かれ、国連を舞台に初めて環境問題が話し合われた。
- ④ ブラジルは、鉄鉱石などの天然資源が豊富であるだけでなく、さとうきびや大豆などの農産物の生産もさかんである。





