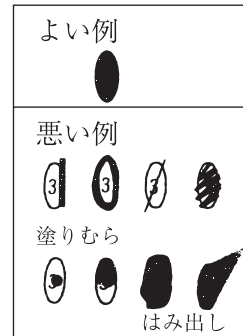


2022年

社 会

マークのしかた

- マークは楕円内をむらなく塗りつぶすこと。
- HBの鉛筆または同じ濃さのシャープペンシルで塗りつぶすこと。
- 一度塗りつぶしたものを直すときは、あとが残らないように、プラスチック製消しゴムできれいに消してから直すこと。



受験番号のマークのしかた

- 受験番号記入欄に、自分の受験番号を記入し、下の該当する数字をマークしなさい。
- 右図は1503番の人の例です。

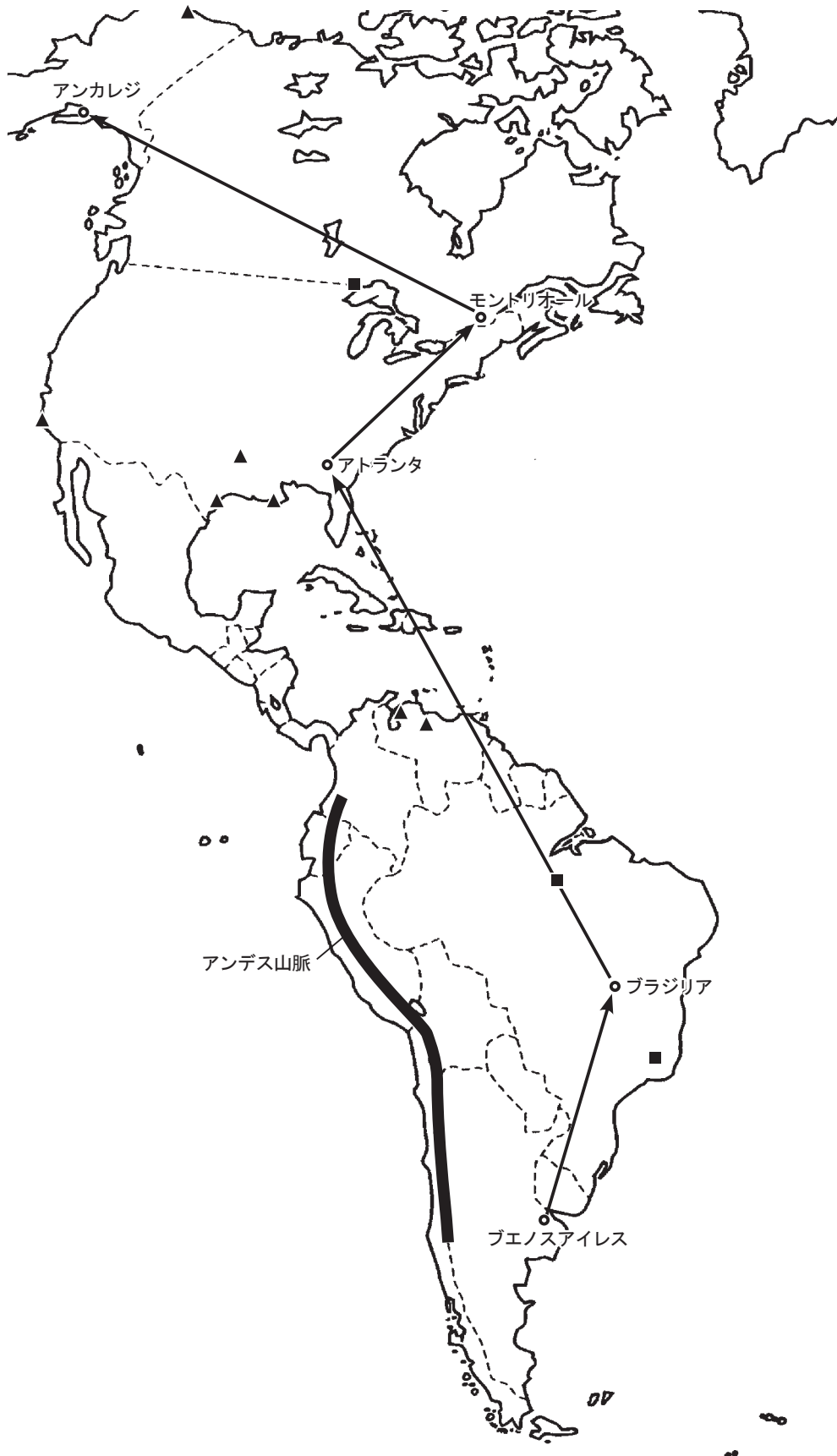
受験番号			
	1	5	03
●	①	①	①
○	②	②	②
○	③	③	●
○	④	④	④
○	●	⑤	⑤
○	⑥	⑥	⑥
○	⑦	⑦	⑦
○	⑧	⑧	⑧
○	⑨	⑨	⑨
○	⑩	●	⑩

解答のしかた

- 記述で解答するように指示してある問題以外はマークで解答しなさい。
- 右図の例は 1 の (1) に ③, (2) に ⑤ と答えるときのものです。この例では (4) は記述で解答します。

問題番号	解 答 欄
1	(1) ① ② ● ④ ⑤ ⑥ ⑦ ⑧ ⑨ ⑩
	(2) ① ② ③ ④ ● ⑥ ⑦ ⑧ ⑨ ⑩
	(3) ① ② ③ ④ ⑤ ⑥ ⑦ ⑧ ⑨ ⑩
	(4)
	(5) ① ② ③ ④ ⑤ ⑥ ⑦ ⑧ ⑨ ⑩

- 1 次の地図は、たけしさんがアメリカ大陸を旅行したルートを示したものである。地図を見て、あとの(1)～(6)に答えなさい。(13点)



(1) たけしさんは、訪れた都市で話されている言葉が異なることに驚いた。各都市でもっとも多くの人々に使用されている言葉の組み合わせとして適切なものを、次の①～⑥の中から一つ選びなさい。

	ブエノスアイレス	ブラジリア	アトランタ	モントリオール	アンカレジ
①	英語	ポルトガル語	スペイン語	フランス語	英語
②	英語	スペイン語	ポルトガル語	フランス語	英語
③	ポルトガル語	英語	スペイン語	フランス語	英語
④	ポルトガル語	スペイン語	英語	フランス語	英語
⑤	スペイン語	英語	ポルトガル語	フランス語	英語
⑥	スペイン語	ポルトガル語	英語	フランス語	英語

(2) 次の文は、たけしさんの日記の一部である。文が示す都市として適切なものを、下の①～⑤の中から一つ選びなさい。

この国は、ヨーロッパ系の住民が多いようだ。街を歩くと、タンゴとよばれるダンス音楽が聞こえてくる。郊外に出ると、見わたすかぎりパンパとよばれる大草原が広がり、小麦やトウモロコシなどの広大な農場や、牛の放牧が見られる。

- ① ブエノスアイレス ② ブラジリア ③ アトランタ ④ モントリオール
⑤ アンカレジ

(3) たけしさんは、アンカレジから日本へ帰るときに、日付変更線を越えた。日付変更線について示した文として正しいものを、次の①～④の中から一つ選びなさい。

- ① 付近を0度の経線が通っており、これを東から西へ越える（アメリカから日本へ行く）場合には、日付を1日進ませる。
② 付近を0度の経線が通っており、これを東から西へ越える（アメリカから日本へ行く）場合には、日付を1日遅らせる。
③ 付近を180度の経線が通っており、これを東から西へ越える（アメリカから日本へ行く）場合には、日付を1日進ませる。
④ 付近を180度の経線が通っており、これを東から西へ越える（アメリカから日本へ行く）場合には、日付を1日遅らせる。

(4) たけしさんは、アトランタの周辺で、綿花の栽培がさかんであることを知った。綿花の栽培がさかんな地域としてもっとも適切なものを、次の①～⑤の中から一つ選びなさい。

- ① ルソン島 (フィリピン) ② 中央シベリア高原 (ロシア)
 ③ バレンシア地方 (スペイン) ④ デカン高原 (インド)
 ⑤ ギニア湾沿岸 (ガーナ)

(5) たけしさんは、この大陸で産出する資源について調べ、地図中にも書き込んだ。地図中の▲と■が示す資源の組み合わせとして適切なものを、次の①～⑥の中から一つ選びなさい。

	▲	■
①	石油	石炭
②	石油	鉄鉱石
③	石炭	石油
④	石炭	鉄鉱石
⑤	鉄鉱石	石油
⑥	鉄鉱石	石炭

(6) たけしさんは、アンデス山脈がアルゼンチンとチリの国境となっていることに気づいた。アンデス山脈は、地震の震源や火山が帯のように連なって分布する「造山帯」の一部である。造山帯に位置する場所として適切でないものを、次の①～⑤の中から一つ選びなさい。

- ① アルプス山脈 ② 日本 ③ インドネシア ④ ヒマラヤ山脈 ⑤ ハワイ諸島

2 次の表と会話文から、あとの(1)～(3)に答えなさい。(11点)

2021年ジェンダーギャップ指数(156か国を調査)

順位	国名	指数
1	アイスランド	0.892
2	フィンランド	0.861
3	ノルウェー	0.849
4	ニュージーランド	0.840
5	スウェーデン	0.823
6	ナミビア	0.809
7	ルワンダ	0.805
8	リトアニア	0.804
9	アイルランド	0.800
10	スイス	0.798
11	ドイツ	0.796
16	フランス	0.784
23	イギリス	0.775
24	カナダ	0.772
30	アメリカ	0.763
63	イタリア	0.721
79	タイ	0.710
87	ベトナム	0.701

順位	国名	指数
101	インドネシア	0.688
102	韓国	0.687
103	カンボジア	0.684
107	中国	0.682
109	ミャンマー	0.681
118	ギニア	0.660
119	アンゴラ	0.657
120	日本	0.656
121	シエラレオネ	0.655
122	グアテマラ	0.655
129	エジプト	0.639
134	コートジボワール	0.637
139	ナイジェリア	0.627
140	インド	0.625
147	サウジアラビア	0.603
150	イラン	0.582
154	イラク	0.535
156	アフガニスタン	0.444

先生：ジェンダーギャップ指数とは、各国の男女格差を数値化したものです。スイスの非営利財団『世界経済フォーラム』が、2006年から毎年発表しており、男女平等格差指数ともよばれています。各国が自国の男女のギャップの差を把握し、解消することを目的としています。評価は、経済活動の参加と機会、教育、健康と寿命、政治への関与の4分野についておこなわれています。指数が1に近いほど、男女格差が小さいということですね。

さとし：日本の順位が低いですね。㊦下位の10%に含まれているようです。もう少し高いと思っていました。

ゆうこ：そうですね。表にはG7の参加国がすべて記載されていますが、日本はその中で最下位です。

先生：初めてジェンダーギャップ指数が発表された2006年の日本の指数が、0.645でしたから、大きく改善されたとは言えないかもしれません。

さとし：㊧上位の5か国は、すべてEU加盟国ですね。

ゆうこ：男女の格差が小さいのは、ヨーロッパの国々だという印象でしたが、10位以内にアフリカの国が2つも入っていますよ。

先生：たとえば、7位のルワンダは、政治分野の評価が高いのです。憲法で、女性議員数が総議員の30%を超えるように定められており、女性議員が多いことで知られています。韓国でも、2000年から、国会議員選挙の立候補者の一定数以上を女性とするという政策がとられています。この年から、韓国は、日本よりも上位となりました。

さとし：日本でも、そのような思い切った政策が必要なのかもしれませんね。日本よりも下位の国はどんな国だろう。

ゆうこ：表からだど、国民の多くが ⑥イスラームを信仰している国がいくつか見られます。その中には、女性の社会的な活動を奨励しない国もあると聞きました。

(1) 会話文中の下線部⑥～⑧について、その正誤の組合せとして適切なものを、次の①～⑧の中から一つ選びなさい。

	⑥	⑦	⑧
①	正	正	正
②	正	正	誤
③	正	誤	正
④	正	誤	誤
⑤	誤	正	正
⑥	誤	正	誤
⑦	誤	誤	正
⑧	誤	誤	誤

(2) 表中のドイツの工業について述べた文として適切なものを、次の①～⑤の中から一つ選びなさい。

- ① ライン川の河口に位置するロッテルダムには、ユーロポートとよばれる港湾施設が建設され、石油精製・石油化学工業が集まっている。
- ② 石炭や石油のほとんどを輸入にたよっており、臨海型の工業地域が形成された。
- ③ 綿花やジュートなど、自国で栽培される農産物を加工する工業が見られる。
- ④ 近年、外国の資本・技術を導入することによって急速に発展をとげ、自動車・鉄鋼・パソコンなどの生産は、世界でもっとも多くなっている。
- ⑤ ルール地方などで産出する石炭を利用して、鉄鋼業・機械工業などの重工業が発達した。

(3) 表中の日本について、次のア～ウに答えなさい。

ア 日本の気候について述べた文としてもっとも適切なものを、次の①～⑤の中から一つ選びなさい。

- ① 偏西風の影響を受け、降水量は、年間を通して平均的である。
- ② 高気圧におおわれる期間が長く、降水量が少なく乾燥する。
- ③ 気温が上がらず、一年中雪と氷に閉ざされる。
- ④ 夏と冬で方向が変わる季節風の影響を受け、季節ごとの降水量の変化が大きい。
- ⑤ 毎日のようにスコールとよばれる強い雨にみまわれ、降水量がとても多い。

イ 次の表は、米・ジャガイモ・茶・日本なし・みかんについて、収穫量が上位の5道府県を示したものである。ジャガイモについて示したものを、①～⑤の中から一つ選びなさい。(統計は、米・茶は2020年、ジャガイモ・日本なし・みかんは2019年)

	1位	2位	3位	4位	5位
①	茨城県(9.5)	千葉県(9.2)	栃木県(8.6)	福島県(7.6)	鳥取県(7.0)
②	北海道(78.8)	鹿児島県(4.0)	長崎県(3.8)	茨城県(2.0)	千葉県(1.2)
③	鹿児島県(36.0)	静岡県(34.2)	三重県(7.3)	宮崎県(4.4)	京都府(3.4)
④	和歌山県(21.0)	愛媛県(16.8)	静岡県(11.5)	熊本県(10.8)	長崎県(7.2)
⑤	新潟県(8.6)	北海道(7.7)	秋田県(6.8)	山形県(5.2)	宮城県(4.9)

()内は%

ウ 日本には、各地に、伝統的な祭りや芸能、年中行事が受けつがれている。沖縄県と関係が深いものを、次の①～⑤の中から一つ選びなさい。

- ① なまはげ
- ② 阿波^{あわ}おどり
- ③ 祇園^{ぎおん}祭
- ④ えんぶり
- ⑤ エイサー

3 次のA～Dは、東京都、長野県、高知県、岩手県を示したものである。これについて、あとの(1)～(5)に答えなさい。(11点)



青森県



A



B



C



D

(1) 長野県と高知県にあたる図の組み合わせとして正しいものを、次の①～⑧の中から一つ選びなさい。

	長野県	高知県
①	A	C
②	A	D
③	B	C
④	B	D
⑤	C	A
⑥	C	B
⑦	D	A
⑧	D	B

(2) A～Dに関連する説明として適切でないものを、次の①～④の中から一つ選びなさい。

- ① 都道府県名と都道府県庁所在地名が異なる都県がふくまれている。
- ② 太平洋の黒潮の影響を受け、かつお漁がさかんで、その消費量が多い都県がふくまれている。
- ③ 日本で最も長い川の源流が位置する都県がふくまれている。
- ④ すべての都県で新幹線が開通している。

(3) A～Dのうち青森県より面積が広い都県はいくつあるか。次の①～④の中から一つ選びなさい。なお、図の縮尺は同じではない。

- ① 1つ ② 2つ ③ 3つ ④ 4つ

(4) 四国地方に位置する都県を、次の①～④の中から一つ選びなさい。

- ① 東京都 ② 長野県 ③ 高知県 ④ 岩手県

(5) 次の文で説明される都県を、下の①～④の中から一つ選びなさい。

かつて「武蔵」の国とよばれていた。人口密度が高く、また、主な中央官庁、最高裁判所など、日本を動かす中枢機能が集中している。交通網が発達し、夜間人口より昼間人口の方が多くなっている。

- ① 東京都 ② 長野県 ③ 高知県 ④ 岩手県

- 4 次の表はある生徒が、日本と外国との関わりとその影響について時代ごとにまとめたものである。これについて、あとの(1)～(9)に答えなさい。(19点)

時代	関わり	影響
原始・古代	大陸から移り住んだ人々が <u>A</u> を伝える。	<u>A</u> が盛んになり、小さな国々ができ、人々を支配する <u>㉖</u> 王が現れる。
	遣唐使を派遣する。	唐の文化や、制度を取り入れ、唐を見本とした律令国家体制を整える。 <u>㉗</u> 天平文化が栄える。
中世	<u>㉘</u> 元寇がおこる。	モンゴル襲来に備えるため、北条氏一族に権力が集まり、武士たちは幕府への反感を強める。
	倭寇が発生する。	足利義満は、朝鮮からの要求に応じて、倭寇の取り締まりと日朝貿易を始める。
近世	<u>㉙</u> キリスト教が伝来する。	宣教師の布教や慈善事業により、民衆の間にキリスト教信仰が広まり、信者は30万人を超える。
	「鎖国」体制が成立する。	江戸幕府が、禁教、貿易統制を行い、外交を独占する。
	日米修好通商条約を結ぶ。	<u>㉚</u> 外国との貿易の開始により、日本の経済は大きな影響を受ける。
近代	<u>B</u> 戦争がおこる。	講和条約として下関条約を結ぶ。多額の賠償金や領土を獲得したが、 <u>㉛</u> 三国干渉を招く。
	日露戦争がおこる。	日本海海戦で勝利したことが機となり、ロシアとの間に <u>㉜</u> ポーツマス条約が結ばれる。
	太平洋戦争がおこる。	敗戦により、連合国軍に占領される。

(1) 空欄 A に入る適切な語句を答えなさい。

(2) 下線部 ㉖ について、「三国志」魏書に見られる邪馬台国の女王は誰か、漢字で答えなさい。

(3) 下線部 ㉗ について説明した文として適切でないものを、次の①～④の中から一つ選びなさい。

- ① 聖武天皇が愛用した品々は、東大寺の正倉院宝物として保存されている。
- ② 遣唐使が連れ帰った陶工たちによって優れた技術が伝えられ、有田焼が始まった。
- ③ 東大寺正倉院は、三角形の木材を組んだ校倉造という技法で作られている。
- ④ 聖武天皇は、仏教の力にたよって国家を守ろうとし国ごとに国分寺を建てた。

(4) 下線部㉔の際に鎌倉幕府を率いた人物を、次の①～⑤の中から一つ選びなさい。

- ① 北条時宗 ② 北条政子 ③ 北条時政 ④ 北条泰時 ⑤ 北条時頼

(5) 下線部㉕について述べた文として適切でないものを、次の①～④の中から一つ選びなさい。

- ① ローマ帝国が国の宗教にしたことで、ヨーロッパで広く信仰されるようになった。
② イエスの教えは、弟子たちによって「聖書」にまとめられた。
③ カトリック教会の頂点に立つ教皇は、大きな権威を持っていた。
④ ヴィシュヌ神は、キリスト教の最も重要な神の一つで、世界を維持する神である。

(6) 下線部㉖について述べた文として適切なものを、次の①～④の中から一つ選びなさい。

- ① 最大の貿易港は横浜で、相手国はアメリカであった。
② 茶の貿易独占に反対する人々が抗議し、先住民の姿をして茶箱を海に捨てた。
③ イギリス産の安くて良質な菜種油が輸入され、国内の生産地に大きな打撃を与えた。
④ 東日本を中心に、輸出品であった生糸の生産が盛んになった。

(7) 空欄 に入る適切な語句を答えなさい。

(8) 下線部㉗の三国について述べた文として適切なものを、次の①～④の中から一つ選びなさい。

- ① 三国のうち一つはフランスで、日本はこの国の憲法を参考に大日本帝国憲法を制定した。
② 三国のうち一つはイギリスで、ケープ植民地の首相にセシル・ローズがいる。
③ 三国のうち一つはロシアで、他の二国を誘って日本に干渉を行った。
④ 三国のうち一つはドイツで、軍人のナポレオンがこの国の皇帝となった。

(9) 下線部㉘のポーツマスは、どこの国の都市か、次の①～⑤から一つ選びなさい。

- ① ギリシア ② インド ③ ロシア ④ イギリス ⑤ アメリカ

- 5 次の表は、日本の紙幣に採用された人物について、主なものをまとめたものである。あとの(1)～(7)に答えなさい。(16点)

発行年	人物	発行年	人物
1888年	(A)	1963年	⑤伊藤博文
1891年	⑥中臣鎌足	1984年	夏目漱石・新渡戸稲造・福沢諭吉
1930年	聖徳太子	②2000年	⑥紫式部
1948年	①板垣退助	2004年	野口英世・樋口一葉
1951年	岩倉具視	2024年	北里柴三郎・津田梅子・渋沢栄一

(1) 表中の(A)には、遣唐使の派遣の停止を訴えて認められた人物が入る。その人物を、次の①～⑤の中から一つ選びなさい。

- ① 小野妹子 ② 菅原道真 ③ 藤原道長 ④ 蘇我馬子 ⑤ 藤原純友

(2) 下線部⑥は、中大兄皇子と協力し新しい支配の仕組みを作る改革を始めた。この改革を何と
いうか、答えなさい。

(3) 下線部①について述べた文としてもっとも適切なものを、次の①～④の中から一つ選びなさい。

- ① 立憲政友会を結成し党首となった。
② 民撰議院設立の建白書を政府に提出した。
③ 本格的な政党内閣を組織し、平民宰相と呼ばれた。
④ 満25歳以上の男子に選挙権をあたえる普通選挙法を成立させた。

(4) 下線部⑤に関連して、明治維新の改革について述べた文として適切でないものを、次の①～④の中から一つ選びなさい。

- ① 地租改正が実施され、税率を地価の3%とした。
② 徴兵令が出され、士族と平民の区別なく兵役の義務を負うことになった。
③ 中央集権国家を造りあげるため、廃藩置県の実施後に版籍奉還を実施した。
④ 学制が公布され、満6歳になった男女は、学校に通うことが義務になった。

(5) 下線部㉔について、この年に日本で主要国首脳会議が開かれた。これを記念して発行された新紙幣には、世界遺産に登録されている首里城の門の一つ守礼門が描かれている。この会議が開かれた道府県の県庁所在地を、次の①～⑥の中から一つ選びなさい。

- ① 水戸 ② 札幌 ③ 名古屋 ④ 那覇 ⑤ 宇都宮 ⑥ 大津

(6) 下線部㉕があらわした文学作品名を、漢字で答えなさい。

(7) 表について述べた文としてもっとも適切なものを、次の①～⑤の中から一つ選びなさい。

- ① 鎌倉時代や室町時代に活躍した人物は、紙幣に採用されていない。
② 野口英世や北里柴三郎など、画家として活躍した人物が採用されている。
③ ノーベル賞を受賞した人物が採用されている。
④ 2024年までに、2名の女性が採用されている。
⑤ 第二次世界大戦後発行の紙幣には、内閣総理大臣の人物は採用されていない。

6 次の文を読んで、あとの(1)～(6)に答えなさい。(14点)

国の政治の中心となるのは、国民の選挙によって選ばれた代表者で構成される国会である。日本国憲法では、国会を「国権の(A)機関」と定めている。わが国の国会は、衆議院と参議院からなり⑥各議院の構成にちがいを持たせている。国会は、法律の制定や⑦予算の審議・議決など⑧さまざまな仕事をしている。

国会に提出された議案の多くは、まず専門の委員会で審議され、それから⑨本会議で審議される。本会議で議決された議案は、もう一方の議院へ送られる。議案によっては、⑩衆議院の議決が優越する場合がある。

(1) (A)にあてはまる語句を、漢字で答えなさい。

(2) 下線部⑥に関連する説明として適切なものを、次の①～④の中から一つ選びなさい。

- ① 議員の任期は、衆議院が4年、参議院が6年である。
- ② 議員数は、衆議院が245人、参議院が465人である。
- ③ 被選挙権は、衆議院が30歳以上、参議院が25歳以上に与えられている。
- ④ 議員の選出方法は、衆議院が小選挙区制のみ、参議院が比例代表制とされている。

(3) 下線部⑦について、毎年1月に予算の審議を行うために召集される国会を何というか、次の①～④の中から一つ選びなさい。

- ① 緊急集会 ② 特別会(特別国会) ③ 臨時会(臨時国会) ④ 常会(通常国会)

(4) 下線部⑩について、国会の仕事として適切なものを、次の①～④の中から一つ選びなさい。

- ① 条例の制定 ② 憲法改正の発議 ③ 内閣総理大臣の任命
- ④ 天皇の国事行為に対する助言と承認

(5) 下線部㉔で、議会を開くために必要な定足数として適切なものを、次の①～⑤の中から一つ選びなさい。

- ① 過半数 ② 3分の1以上 ③ 3分の2以上 ④ 4分の1以上
⑤ 4分の3以上

(6) 下線部㉕について、衆議院の優越として**適切でないもの**を、次の①～④の中から一つ選びなさい。

- ① 条約の承認 ② 予算の議決 ③ 国政調査権の行使 ④ 内閣不信任の決議

7 次の公害・環境問題に関する年表を見て、あとの(1)～(4)に答えなさい。(9点)

1878年	足尾銅山の鉱毒被害が発生
㉞1956年	水俣病が確認され、社会問題化
1967年	公害対策基本法制定
(A)	
1993年	環境基本法制定
1997年	地球温暖化防止京都会議開催
2000年	㉟循環型社会形成推進基本法制定
2011年	東京電力福島第一㉞原子力発電所事故発生

(1) 下線部㉞の年に起こった出来事として適切なものを、次の①～④の中から一つ選びなさい。

- ① 日ソ共同宣言 ② 自衛隊のイラク派遣 ③ 沖縄の返還 ④ 世界金融危機

(2) 年表中の(A)の時期に起きた出来事の説明として適切でないものを、次の①～④の中から一つ選びなさい。

- ① 国連環境開発会議(地球サミット)が開催された。
② 野生動植物の保護のためワシントン条約が採択された。
③ 地球温暖化対策税(環境税)が日本で導入された。
④ 環境行政を専門的に担う環境庁が設置された。

(3) 下線部㉟の内容として適切なものを、次の①～④の中から一つ選びなさい。

- ① 循環型社会の実現には、リデュース、リユース、リサイクルの優先順位で廃棄物を減らすことが重要であるとしている。
② 循環型社会の実現には、国民生活センターや消費生活センターの設置が必要であるとしている。
③ 循環型社会の実現には、環境へ配慮した商品のみを取引するフェアトレードの推進が必要であるとしている。
④ 循環型社会の実現において、国や地方自治体が責任を負う必要はなく、企業と消費者がそれぞれ責任を持って推進するべきであるとしている。

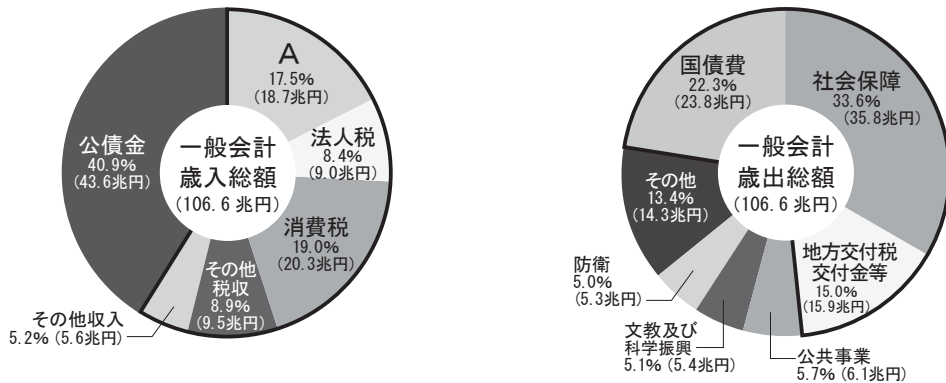
(4) 下線部㉞に関連して、日本において、政府が原子力発電を推進するきっかけとなった出来事を、次の①～④の中から一つ選びなさい。

- ① 石油危機 ② 朝鮮戦争 ③ 平成不況 ④ リーマン・ショック

8

日本の財政について、次の資料を見て、あとの(1)～(3)に答えなさい。(7点)

2021年度一般会計予算案



「その他」には、新型コロナウイルス感染症対策予算費(4.7%(5.0兆円))が含まれる。

財務省HPより

(1) 資料のAに入る語句を答えなさい。

(2) 資料の「社会保障」の説明として適切でないものを、次の①～④の中から一つ選びなさい。

- ① 「社会保障」とは、年金、医療、介護、子ども・子育て等のために国が支出するものである。
- ② 「社会保障」は、国の一般会計歳出の約3分の1を占める最大の支出項目となっている。
- ③ 現在、日本では、総人口の減少にともなって、「社会保障」の額も減少傾向にある。
- ④ 2019年の消費税率引き上げによる増収分は、子育て支援等の「社会保障」にあてるとされた。

(3) 次の文のうち適切なものを、①～④の中から一つ選びなさい。

- ① 法人税は、間接税に分類され、企業が材料を購入するさいにかかる税である。
- ② 公債金は、国の借金ともいえるものであるが、1990年代のバブル経済以降、国債発行残高は減少しつづけている。
- ③ 地方交付税交付金とは、地方公共団体の財政格差を小さくするために、国から地方公共団体に配分される資金をいう。
- ④ 国債費は、国の借金の返済費であるが、これが増えることで教育や景気対策を行う資金も増えるとされる。